

注 意 事 項

- 一、試験開始の合図があるまで、この問題冊子を開いてはいけません。
- 二、国語総合の問題は一ページから十三ページまであります。
- 三、解答用紙は一枚です。
- 四、試験中に問題冊子および解答用紙の印刷不鮮明、落丁（ページの脱落）・乱丁（ページの乱れ）に気付いた場合は、手を挙げて監督者に知らせなさい。
- 五、問題冊子の余白等は自由に利用してよいが、どのページも切り離してはいけません。
- 六、試験時間は六十分です。
- 七、受験番号と氏名は、解答用紙の指定された欄に記入しなさい。
- 八、解答は、すべて解答用紙の指定された欄に記入しなさい。
- 九、必要以外のことを解答用紙に書いてはいけません。
- 十、問題冊子は持ち帰りなさい。

令和六年度


一般選抜問題 一期 【二日目】

国語総合

【試験時間 午前十時～午前十一時】

— 次の文章は、稲垣栄洋『ナマケモノは、なぜ怠けるのか？ 生き物の個性と進化のふしぎ』の一部分である（ただし、少し書き換えた）。読んで後の設問に答えなさい。（五十点）

黒い縦線による文章の隠蔽。A、イ、②、①のマークが設問を示している。




(稲垣栄洋『ナマケモノは、なぜ怠けるのか？ 生き物の個性と進化のふしぎ』より)

[Redacted text block containing vertical bars and labels E, ホ, ⑤, D]

問一 傍線部①～⑤について、カタカナを漢字に直しなさい。


問二 空欄「イ」～「ホ」にあてはまる語句を次の中から一つずつ選び、記号で答えなさい（ただし、使用は一度のみ）。

- a それなのに b それでは c もっとも d どうして e だから


問三 傍線部A「」とあるが、その例としてふさわしいものはどれか。次の中から二つ

選び、記号で答えなさい。

- a 丸顔、角張った顔など、人間の顔にはさまざまな形があること。
b すべてのチーターは、例外なく皆俊足であること。
c 首が短いキリンは存在せず、どんなキリンでも首が長いこと。
d 人間の性格には、慎重、短気、優しい、いじわるなど、多様な個性があること。
e ゾウは鼻が長いという特徴を持ち、鼻が短い個体はいないこと。

問四 傍線部B「」とは何か。オナモミを例に、本文中の言葉を用いて九十五字以内で説明しなさい（句

読点も一字に数える）。

問五 傍線部C「」とあるが、その例としてふさわしいものはどれか。次の中から**全て**選び、記号で答えなさい。

- a ウサギの長い耳は音をキャッチするのに優れており、熱を外に逃がす役割も果たしている。
b 小柄な人は身を隠しやすいメリットがあるが、高い所や遠い所まで目が届きにくいというデメリットがある。
c 生物の卵は大きい方が生存率が高くなるが、卵を大きくすると多数作るのは難しくなる。
d マラソン選手の筋肉は一般的に柔らかくしなやかで、持久走には向いているが、短距離走には向いていない。
e ライチヨウは外敵から身を守るために、夏と秋は羽が茶色に、冬には白色になる。
f 足が短い人は歩幅が狭く、歩く速度が遅くなりがちだが、重心が低い分、バランスが安定しやすい。

問六 空欄 I にはどのような表現が入るか。次の中から一つ選び、記号で答えなさい。

- a 瓜うりの蔓つるに茄子なすびはならぬ
- b 破れ鍋わに綴とじ蓋
- c 明日の百より今日の五十
- d 骨折くたびり損もの草くたび臥もれ儲もちけ
- e あちらを立てれば、こちらが立たず

問七 傍線部 D 「

とあるが、なぜこれがふしぎな

のか。本文中の言葉を用いて百五字以内で説明しなさい（句読点も一字に数える）。

問八 傍線部 E 「

とあるが、これはどういうこと


か。本文中の言葉を用いて百四十五字以内で説明しなさい（句読点も一字に数える）。

二


次の文章は、大澤真幸『この世界の問い方 普遍的な正義と資本主義の行方』の一部分である（ただし、少し書き換えた）。読んで後の設問に答えなさい。

（五十点）

[Redacted text block containing the main passage with markers ①, イ, and A]



(大澤真幸『この世界の問い方 普遍的な正義と資本主義の行方』より)



問五 傍線部 B 「とあるが、これはどのような意味か。本文中の言葉を用いて

五十五字以内で説明しなさい（句読点も一字に数える）。

問六 傍線部 C 「とあるが、これはどのような根拠か。本文中の言葉を用いて七十

字以内で説明しなさい（句読点も一字に数える）。

問七 傍線部 D 「とあるが、これはどういうことか。その説明

としてふさわしいものを次の中から二つ選び、記号で答えなさい。

- a このパンデミックは、経済を麻痺させ、大量の失業者を生み、多くの企業を倒産させ不況が長引くことになるが、ハイパーインフレーションによる破局の程度はそれ以上であるということ。
- b このパンデミックは、人類に取り憑いて離れないもので、第二波、第三波も予想されるが、偶発的なものであり、ハイパーインフレーションによる破局の程度よりも軽いということ。
- c このパンデミックは、全国民に、人間らしい生活を送るに十分な一律10万円の経済的な保障を与えることで克服され、ハイパーインフレーションによる破局とほぼ同程度であるということ。
- d このパンデミックは、政府が後先のことを考えずに、失職者や休業者が必要とする金額を支給していくことで救済でき、ハイパーインフレーションによる破局の程度よりも軽いということ。
- e このパンデミックは、経済対策により政府財政の赤字の許容限度を超えると、国民は増税を覚悟しなくてはならないが、ハイパーインフレーションによる破局の程度はそれ以上であるということ。

問八 次の文章は、ある生徒が本文を参考に「トロッコ問題」と「自動運転システム」について考察したときのメモ書きの一部である。空欄①～⑤に適する表現を、本文から抜き出して書きなさい(ただし同じ番号には同じ語句が入る)。

きの一部である。空欄①～⑤に適する表現を、本文から抜き出して書きなさい(ただし同じ番号には同じ語句が入る)。

◎「トロッコ問題」(「ソフィーの選択」とは

・倫理的・道徳的な選択の問題。①に陥る。

・ある人を助けるために、他の人を犠牲にすることは許されるのか?

・「ソフィーの選択」は、②である。2人のわが子のうち、どちらかしか助けることができない。

◎「自動運転システム」とは

・衝突を避けられない時の判断基準をどのように設定するか?

・たとえば、対向車を避けると歩行者をはねる可能性があるような場合は?

・どちらにも③を伴う。完全にソフィー的な選択と言える。

・現状は、システムが警告し、最終判断は運転者が行う。

※「意見・主張」など

・緊急災害時の医師の判断(トリアージ)の場面に類似している。

・多くの傷病者がいる。全員助けたいが、現実には困難な状況もある。

・④ことはできない。

・しかし、一方を取って他方を犠牲にするという選択に満足してはならない。

・私は、「④こと」に⑤したい。